







# MINCE 1 – slovní úlohy

Obrázky mincí zdroj: vlastní fotografie

Kamil a Michal mají celkem 21 Kč. Michal má polovinu z toho, co má Kamil.

Kamil má \_\_\_\_\_ Kč. Michal má \_\_\_\_\_ Kč.







Oba mají tři mince. Doplň do tabulky:

	1 Kč	2 Kč	5 Kč	10 Kč	20 Kč	50 Kč
<b>KAMIL</b>						
<b>MICHAL</b>						

David a Lukáš mají celkem 60 Kč. Lukáš má polovinu z toho, co má David.

David má \_\_\_\_\_ Kč. Lukáš má \_\_\_\_\_ Kč.

Oba mají tři mince. Doplň do tabulky:

	1 Kč	2 Kč	5 Kč	10 Kč	20 Kč	50 Kč
<b>DAVID</b>						
<b>LUKÁŠ</b>						

Kdyby dal David Lukášovi minci v hodnotě \_\_\_\_\_ Kč, tak by měli stejně.

Kdyby dal Lukáš Davidovi minci v hodnotě \_\_\_\_\_ Kč, tak by měl David pětkrát víc.

Kdyby dal David Lukášovi minci v hodnotě \_\_\_\_\_ Kč, tak by měl polovinu z toho, co by měl Lukáš.